

STD: III

SUB: HINDI

HOLIDAY ASSIGNMENT

(2018-19)

I वलनी शुद्ध करके लिखिए  
write the correct spelling

1. चिड़ीया      2. पैड      3. कोआ      4. लढका
- \_\_\_\_\_

II शब्दों की सही क्रम में सजाकर वाक्य बनाइए

Rearrange the words in correct order and make sentences

1) वह / है / जाला / स्कूल

\_\_\_\_\_

2) पैड / है / दरा

\_\_\_\_\_

3) मेश / सरला / है / नाम

\_\_\_\_\_


4) कुल्ला / है / भोंकला

\_\_\_\_\_

5) मैं / खाली / खाना / हूँ

\_\_\_\_\_

III चित्र देखकर उनका नाम लिखिए (write picture names)



1. \_\_\_\_\_  
2. \_\_\_\_\_  
3. \_\_\_\_\_  
4. \_\_\_\_\_  
5. \_\_\_\_\_

IV शब्द सीढ़ी बनाइए (Complete the following)

पानी

(लाल, नीरस, काला,  
सरल, लड़का)

V जोड़ बनाइए (match the following) - Gender

बेटा

माता

शेर

धोबिन

पिता

बेटी

धोबी

शेरनी

வகுப்பு : முன்று

பெயர்: \_\_\_\_\_

பாடம் : தமிழ்

பிரிவு / வ.எண்: \_\_\_\_\_

அ ) க"கர வரிசையின் பெயர்களை எழுதி அப்பெயரில் உள்ள எழுத்துகளைக் குறில் , நெடில் , ஒற்று என அட்டவணைப்படுத்துக .

வரிசை எண்	எழுத்து	சொல்	குறில்	நெடில்	ஒற்று
எ. கா	தா	தாமரைப்பூ	ம	தா, ரை, பூ	ப்
1	க				
2	கா				
3	கி				
4	கீ				
5	கு				
6	கூ				
7	கெ				
8	கே				
9	கை				
10	கொ				
11	கோ				
12	கொள				

ஆ ) கீழ்க்காணும் ஓர் எழுத்துச் சொற்களுக்குரிய பொருள் எழுதுக.

1. ஆ - \_\_\_\_\_

2. கை - \_\_\_\_\_

3. கோ - \_\_\_\_\_

4. நா - \_\_\_\_\_

5. தீ - \_\_\_\_\_

இ ) ஒரு சொல் பல பொருள் எழுதுக.

வரிசை எண்	சொல்	பல பொருள்
1	நகை	
2	மதி	
3	நூல்	
4	மாலை	
5	ஞாயிறு	

ஈ ) ஆங்கிலச் சொற்களைத் தமிழாக்கம் செய்க.

1. WATER \_\_\_\_\_

2. PEACOCK \_\_\_\_\_

3. LOTUS \_\_\_\_\_

4. LION \_\_\_\_\_

5. JUNGLE \_\_\_\_\_

உ ) ஆங்கிலப் பழமொழியைத் தமிழாக்கம் செய்க.

1. TIME IS GOLD

-----

2. HEALTH IS WEALTH

-----

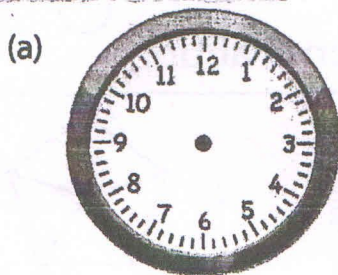
# S.B.O.A GLOBAL SCHOOL, Chennai – 101

## I TERMINAL HOLIDAY ASSIGNMENT

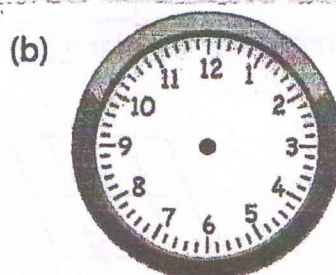
CLASS : III

MATHEMATICS

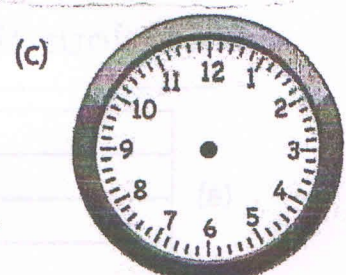
1. Draw the hour and minute hand to represent the given time.



5:15

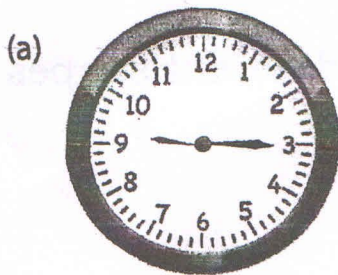


9:30



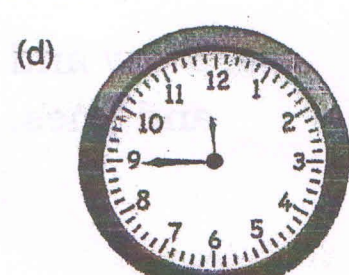

quarter to 10

2. Write the time shown in the clock in two ways




9:15

quarter past 9

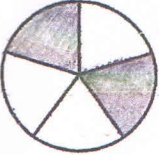



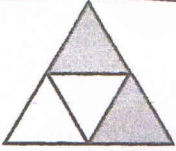





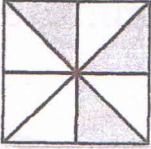



3. Observe the given figure and answer the following questions





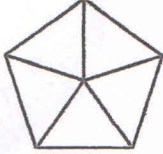
- (a) No. of triangles :
- (b) No. of rectangles :
- (c) No. of circles :
- (d) Total no. of shapes :




4. Write the fraction of the shaded parts of each figure.

(a)   (b)   (c)  

(d)   (e)   (f)  

5. Colour the figures to show the given fractions.

(a)   $\frac{3}{4}$  (b)   $\frac{5}{8}$  (c)   $\frac{2}{5}$

(d)   $\frac{4}{8}$  (e)   $\frac{2}{4}$  (f)   $\frac{7}{16}$

6. Draw and colour any picture using different shapes and lines.